

**Übungsaufgaben Addition mit Bildern (Schneemann). Aufgaben nur in den Zahlenbereich von 1 bis 9.**


**Zähle die Schneemänner zusammen und schreibe die richtige Zahl in das Kästchen!**

Name:


Klasse:

Datum:

Aufgabe 1.




+




=

Aufgabe 2.



+




=

Aufgabe 3.



+




=

Aufgabe 4.



+



=

Aufgabe 5.



+



=

Lösungen:

Aufgabe 1:




6

Aufgabe 2:




8

Aufgabe 3:



5

Aufgabe 4:



5

Aufgabe 5:



7