

Übungsaufgaben Addition mit Bildern (Schneemann). Aufgaben nur in den Zahlenbereich von 1 bis 9.

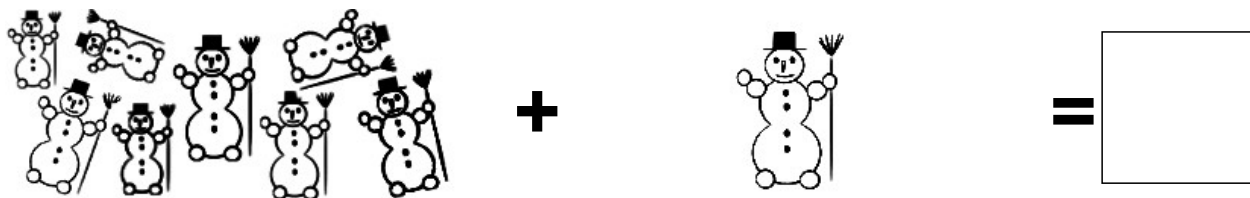
Zähle die Schneemänner zusammen und schreibe die richtige Zahl in das Kästchen!

Name:

Klasse:

Datum:

Aufgabe 1.




Aufgabe 2.




Aufgabe 3.



Aufgabe 4.




Aufgabe 5.



Lösungen:

Aufgabe 1:




9

Aufgabe 2:




6

Aufgabe 3:




5

Aufgabe 4:



5

Aufgabe 5:



9