

Übungsaufgaben Addition mit Bildern (Schneemann). Aufgaben nur in den Zahlenbereich von 1 bis 9.

Zähle die Schneemänner zusammen und schreibe die richtige Zahl in das Kästchen!

Name:

Klasse:

Datum:


Aufgabe 1.



Aufgabe 2.



Aufgabe 3.



Aufgabe 4.



Aufgabe 5.




Lösungen:

Aufgabe 1:



3

Aufgabe 2:



5

Aufgabe 3:




8

Aufgabe 4:



6

Aufgabe 5:



9