



Übungsaufgaben Addition mit Bildern (Schneemann). Aufgaben nur in den Zahlenbereich von 1 bis 9.



Zähle die Schneemänner zusammen und schreibe die richtige Zahl in das Kästchen!



Name:

Klasse:



Datum:

Aufgabe 1.  +  =

Aufgabe 2.  +  =

Aufgabe 3.  +  =

Aufgabe 4.  +  =

Aufgabe 5.  +  =

Lösungen:

Aufgabe 1:



7

Aufgabe 2:



3

Aufgabe 3:



8

Aufgabe 4:



7

Aufgabe 5:



3