

Übungsaufgaben Addition mit Bildern (Schneemann). Aufgaben nur in den Zahlenbereich von 1 bis 9.

Zähle die Schneemänner zusammen und schreibe die richtige Zahl in das Kästchen!

Name:


Klasse:

Datum:

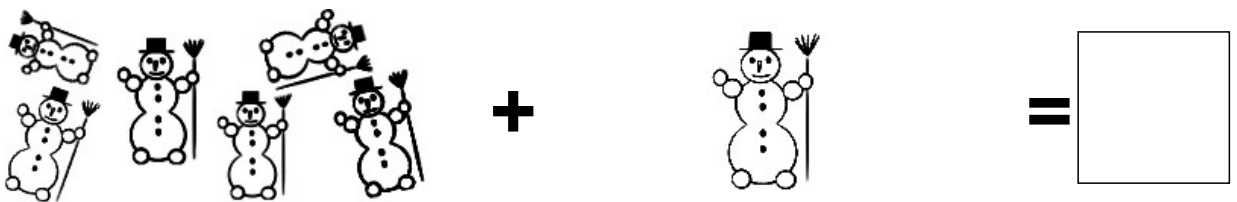
Aufgabe 1.



Aufgabe 2.




Aufgabe 3.



Aufgabe 4.



Aufgabe 5.




Lösungen:

Aufgabe 1:



6

Aufgabe 2:



9

Aufgabe 3:



7

Aufgabe 4:



3

Aufgabe 5:



8