

**Übungsaufgaben Addition mit Bildern (Schneemann). Aufgaben nur in den Zahlenbereich von 1 bis 9.**

**Zähle die Schneemänner zusammen und schreibe die richtige Zahl in das Kästchen!**

Name:


Klasse:

Datum:

Aufgabe 1.




Aufgabe 2.



Aufgabe 3.



Aufgabe 4.



Aufgabe 5.




Lösungen:

Aufgabe 1:



6

Aufgabe 2:




4

Aufgabe 3:



7

Aufgabe 4:



9

Aufgabe 5:



6