

Übungsaufgaben Addition mit Bildern (Schneemann). Aufgaben nur in den Zahlenbereich von 1 bis 9.

Zähle die Schneemänner zusammen und schreibe die richtige Zahl in das Kästchen!

Name:

Klasse:

Datum:

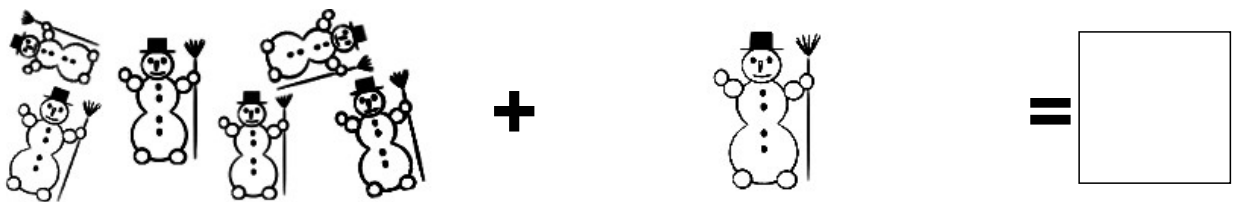
Aufgabe 1.



Aufgabe 2.



Aufgabe 3.



Aufgabe 4.




Aufgabe 5.




Lösungen:

Aufgabe 1:



9

Aufgabe 2:




4

Aufgabe 3:




7

Aufgabe 4:



5

Aufgabe 5:



9