

Übungsaufgaben Addition mit Bildern (Schneemann). Aufgaben nur in den Zahlenbereich von 1 bis 9.

Zähle die Schneemänner zusammen und schreibe die richtige Zahl in das Kästchen!

Name:


Klasse:

Datum:

Aufgabe 1.




+




=

Aufgabe 2.



+



=

Aufgabe 3.



+



=

Aufgabe 4.




+



=

Aufgabe 5.



+



=

Lösungen:

Aufgabe 1:




3

Aufgabe 2:



7

Aufgabe 3:



9

Aufgabe 4:



8

Aufgabe 5:



3