

Übungsaufgaben Addition mit Bildern (Schneemann). Aufgaben nur in den Zahlenbereich von 1 bis 9.

Zähle die Schneemänner zusammen und schreibe die richtige Zahl in das Kästchen!

Name:

Klasse:

Datum:

Aufgabe 1.




Aufgabe 2.



Aufgabe 3.



Aufgabe 4.



Aufgabe 5.



Lösungen:

Aufgabe 1:




6

Aufgabe 2:



8

Aufgabe 3:




5

Aufgabe 4:



7

Aufgabe 5:



2