

Übungsaufgaben Addition mit Bildern (Schneemann). Aufgaben nur in den Zahlenbereich von 1 bis 9.

Zähle die Schneemänner zusammen und schreibe die richtige Zahl in das Kästchen!

Name:



Klasse:

Datum:

Aufgabe 1.

 +  =



Aufgabe 2.

 +  =

Aufgabe 3.

 +  =

Aufgabe 4.


 +  =

Aufgabe 5.

 +  =


Lösungen:

Aufgabe 1:




4

Aufgabe 2:




9

Aufgabe 3:




4

Aufgabe 4:



9

Aufgabe 5:



8