

**Übungsaufgaben Addition mit Bildern (Schneemann). Aufgaben nur in den Zahlenbereich von 1 bis 9.**


**Zähle die Schneemänner zusammen und schreibe die richtige Zahl in das Kästchen!**

Name:


Klasse:

Datum:


Aufgabe 1.



Aufgabe 2.



Aufgabe 3.



Aufgabe 4.




Aufgabe 5.



Lösungen:

Aufgabe 1:




8

Aufgabe 2:




7

Aufgabe 3:



9

Aufgabe 4:



7

Aufgabe 5:



7