

**Übungsaufgaben Addition mit Bildern (Schneemann). Aufgaben nur in den Zahlenbereich von 1 bis 9.**

**Zähle die Schneemänner zusammen und schreibe die richtige Zahl in das Kästchen!**

Name:

Klasse:

Datum:

Aufgabe 1.



+




=

Aufgabe 2.




+




=

Aufgabe 3.



+



=

Aufgabe 4.



+



=

Aufgabe 5.




+



=

Lösungen:

Aufgabe 1:



2

Aufgabe 2:



7

Aufgabe 3:



8

Aufgabe 4:



9

Aufgabe 5:



7