

Übungsaufgaben Addition mit Bildern (Schneemann). Aufgaben nur in den Zahlenbereich von 1 bis 9.


Zähle die Schneemänner zusammen und schreibe die richtige Zahl in das Kästchen!

Name:


Klasse:

Datum:

Aufgabe 1.



Aufgabe 2.



Aufgabe 3.



Aufgabe 4.




Aufgabe 5.



Lösungen:

Aufgabe 1:



9

Aufgabe 2:



6

Aufgabe 3:



8

Aufgabe 4:



8

Aufgabe 5:



7