

**Übungsaufgaben Addition mit Bildern (Schneemann). Aufgaben nur in den Zahlenbereich von 1 bis 9.**

**Zähle die Schneemänner zusammen und schreibe die richtige Zahl in das Kästchen!**

Name:

Klasse:

Datum:

Aufgabe 1.



Aufgabe 2.




Aufgabe 3.



Aufgabe 4.




Aufgabe 5.




Lösungen:

Aufgabe 1:



4

Aufgabe 2:



2

Aufgabe 3:



6

Aufgabe 4:



7

Aufgabe 5:



7