

Übungsaufgaben Addition mit Bildern (Schneemann). Aufgaben nur in den Zahlenbereich von 1 bis 9.

Zähle die Schneemänner zusammen und schreibe die richtige Zahl in das Kästchen!

Name:

Klasse:

Datum:

Aufgabe 1.



+



=

Aufgabe 2.




+




=

Aufgabe 3.




+




=

Aufgabe 4.



+



=

Aufgabe 5.



+



=

Lösungen:

Aufgabe 1:



6

Aufgabe 2:



7

Aufgabe 3:




7

Aufgabe 4:



7

Aufgabe 5:



4