



**Übungsaufgaben Addition mit Bildern (Schneemann). Aufgaben nur in den Zahlenbereich von 1 bis 9.**



**Zähle die Schneemänner zusammen und schreibe die richtige Zahl in das Kästchen!**



Name:

Klasse:



Datum:

Aufgabe 1.  +  =

Aufgabe 2.  +  =

Aufgabe 3.  +  =

Aufgabe 4.  +  =

Aufgabe 5.  +  =

Lösungen:

Aufgabe 1:




**3**

Aufgabe 2:



**6**

Aufgabe 3:




**9**

Aufgabe 4:



**8**

Aufgabe 5:



**5**