

Übungsaufgaben Rechnen mit Bildern.

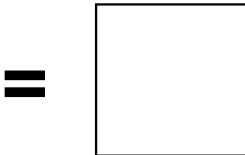
Name:	Klasse:	Datum:
-------	---------	--------



Aufgabe 1.



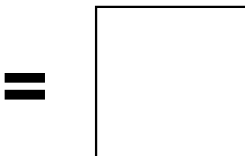
+



Aufgabe 2.



+



Übungsaufgaben Rechnen mit Bildern.


Lösungen

Aufgabe 1:



10

Aufgabe 2:



7