


Übungsaufgaben Rechnen mit Bildern.

Name:	Klasse:	Datum:
-------	---------	--------

Aufgabe 1.




+



Aufgabe 2.




+



Übungsaufgaben Rechnen mit Bildern.

Lösungen

Aufgabe 1:



7

Aufgabe 2:



9