

Name:

Klasse:

Datum:


Aufgabe 1.



+



=




Aufgabe 2.



+



=




Lösungen

Aufgabe 1:



5

Aufgabe 2:



6