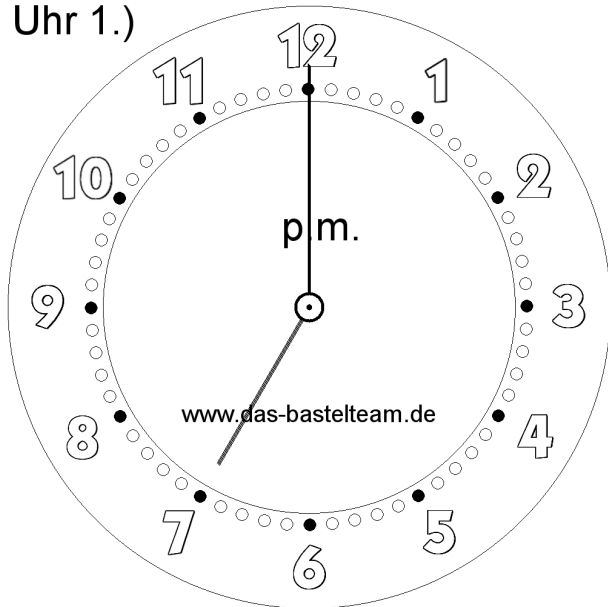


Die Uhr. Zeichne die Zeiger ein.

| | | |
|-------|---------|--------|
| Name: | Klasse: | Datum: |
|-------|---------|--------|

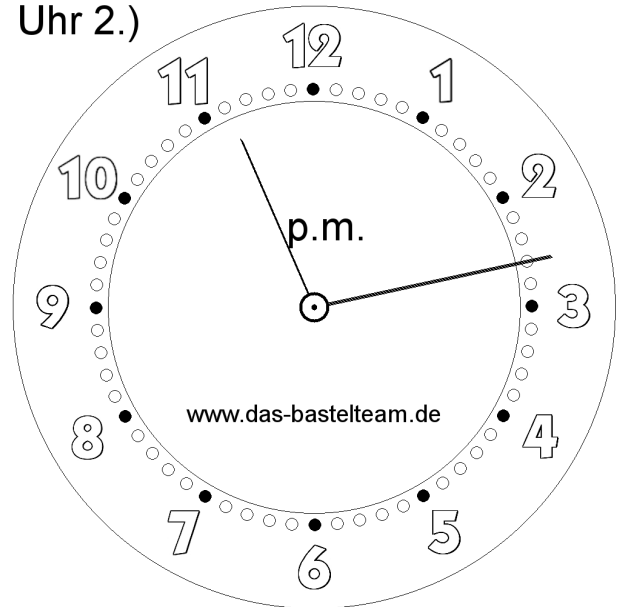
Uhr 1.)



| |
|---|
| : |
|---|

Uhr

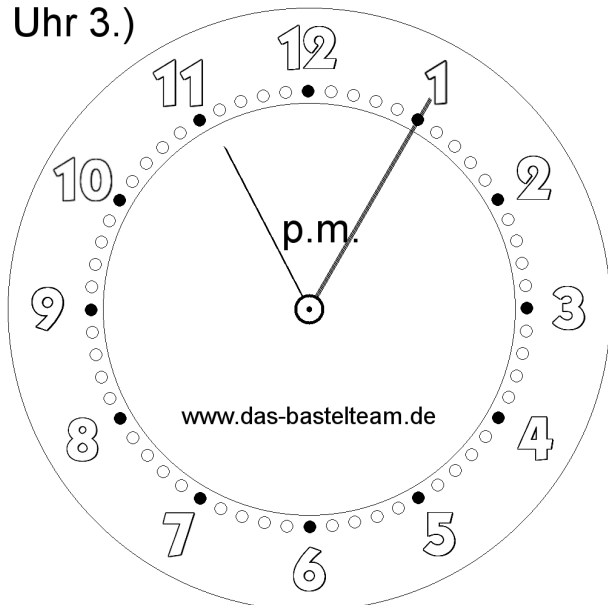
Uhr 2.)



| |
|---|
| : |
|---|

Uhr

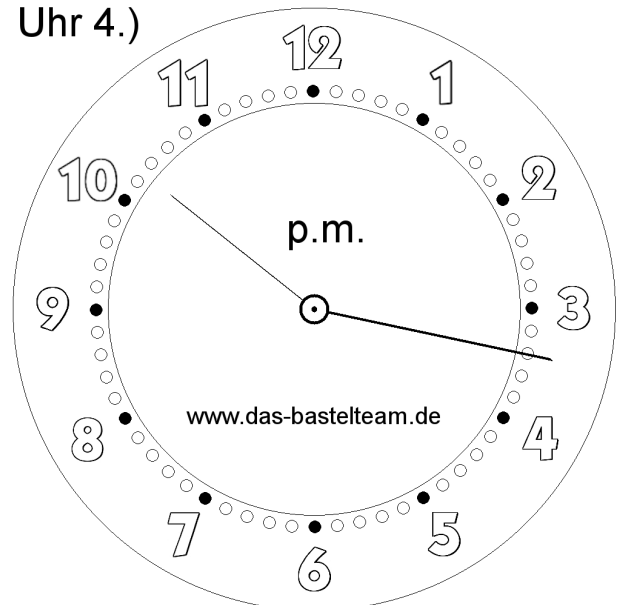
Uhr 3.)



| |
|---|
| : |
|---|

Uhr

Uhr 4.)



| |
|---|
| : |
|---|

Uhr

Die Uhr. Zeichne die Zeiger ein.

Lösungen

Aufgabe 1.)

19:00

Uhr

Aufgabe 2.)

23:13

Uhr

Aufgabe 3.)

23:05

Uhr

Aufgabe 4.)

22:17

Uhr