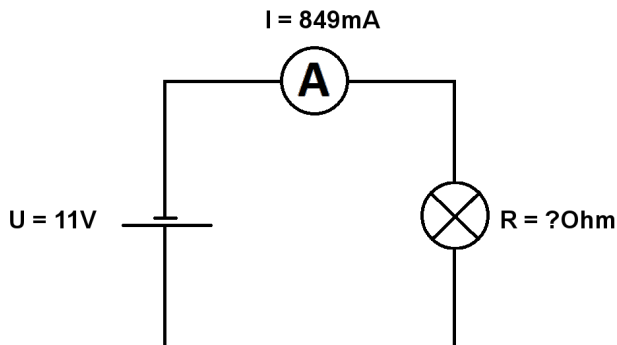


Berechne U, I und R im geschlossenen unverzweigten Stromkreis.

Name:	Klasse:	Datum:
-------	---------	--------

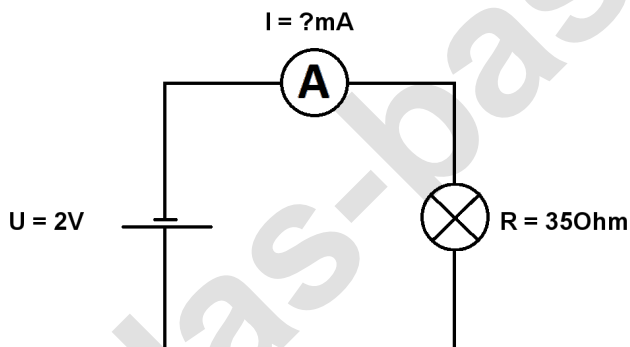
**Aufgabe 1.)**

In den geschlossenen Stromkreis fließt ein Strom von 849mA die Batterie liefert eine Spannung von 11V. Berechne den Widerstand des Lämpchens. Der Widerstand der Verbindungskabel soll nicht mit berücksichtigt werden.



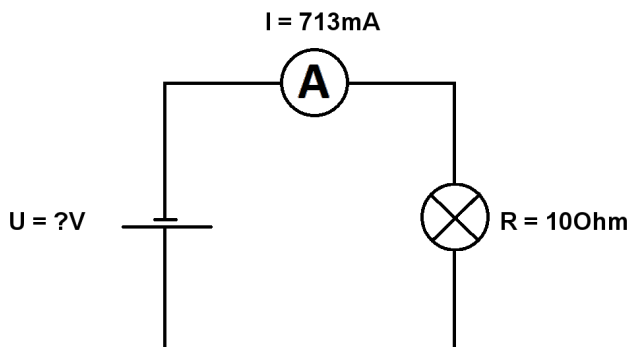
**Aufgabe 2.)**

Die Batterie in dem geschlossenen Stromkreis liefert eine Spannung von 2V das Lämpchen hat einen Widerstand von 35 $\Omega$ . Berechne die Stromstärke in den Stromkreis. Der Widerstand der Verbindungskabel soll nicht mit berücksichtigt werden.



**Aufgabe 3.)**

In den geschlossenen Stromkreis fließt ein Strom von 713mA das angeschlossene Lämpchen hat einen Widerstand von 10 $\Omega$ . Berechne die Spannung der Batterie. Der Widerstand der Verbindungskabel soll auch hier vernachlässigt werden.



Berechne U, I und R im geschlossenen unverzweigten Stromkreis.

Lösungen

**Aufgabe 1.)**

Ergebnis gerundet auf 2 Stellen nach dem Komma.

$$R = U / I \quad R = 11 \text{ V} / 849 \text{ mA} = \underline{\underline{12,96 \text{ Ohm}}}$$

**Aufgabe 2.)**

Ergebnis gerundet auf 2 Stellen nach dem Komma.

$$I = U / R \quad I = 2 \text{ V} / 35 \text{ Ohm} = \underline{\underline{0,06 \text{ A}}}$$

**Aufgabe 3.)**

Ergebnis gerundet auf 2 Stellen nach dem Komma.

$$U = R * I \quad U = 10 \text{ Ohm} * 713 \text{ mA} = \underline{\underline{7,13 \text{ V}}}$$