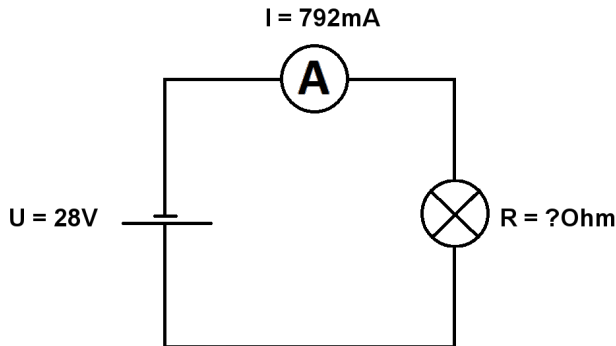


Berechne U, I und R im geschlossenen unverzweigten Stromkreis.

Name:	Klasse:	Datum:
-------	---------	--------

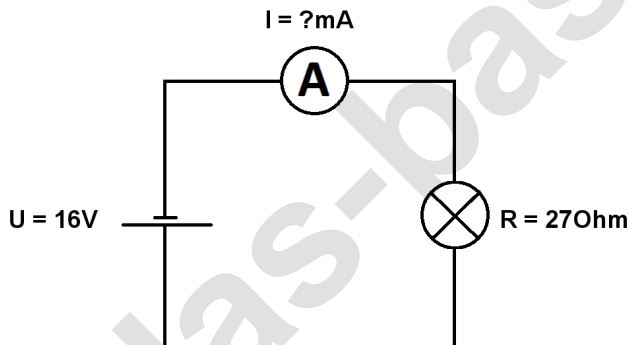
**Aufgabe 1.)**

In den geschlossenen Stromkreis fließt ein Strom von 792mA die Batterie liefert eine Spannung von 28V. Berechne den Widerstand des Lämpchens. Der Widerstand der Verbindungskabel soll nicht mit berücksichtigt werden.



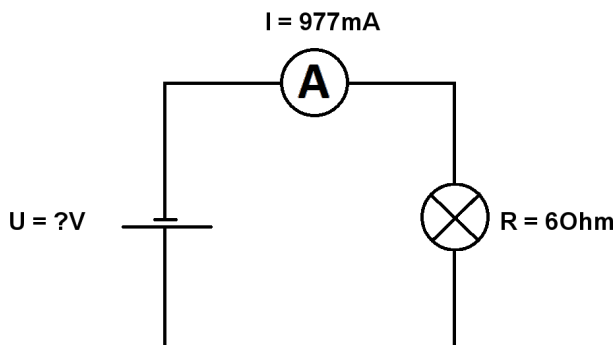
**Aufgabe 2.)**

Die Batterie in dem geschlossenen Stromkreis liefert eine Spannung von 16V das Lämpchen hat einen Widerstand von 270Ohm. Berechne die Stromstärke in den Stromkreis. Der Widerstand der Verbindungskabel soll nicht mit berücksichtigt werden.



**Aufgabe 3.)**

In den geschlossenen Stromkreis fließt ein Strom von 977mA das angeschlossene Lämpchen hat einen Widerstand von 60Ohm. Berechne die Spannung der Batterie. Der Widerstand der Verbindungskabel soll auch hier vernachlässigt werden.



Berechne U, I und R im geschlossenen unverzweigten Stromkreis.

Lösungen

**Aufgabe 1.)**

Ergebnis gerundet auf 2 Stellen nach dem Komma.

$$R = U / I \quad R = 28 \text{ V} / 792 \text{ mA} = \underline{\underline{35,35 \text{ Ohm}}}$$

**Aufgabe 2.)**

Ergebnis gerundet auf 2 Stellen nach dem Komma.

$$I = U / R \quad I = 16 \text{ V} / 27 \text{ Ohm} = \underline{\underline{0,59 \text{ A}}}$$

**Aufgabe 3.)**

Ergebnis gerundet auf 2 Stellen nach dem Komma.

$$U = R * I \quad U = 6 \text{ Ohm} * 977 \text{ mA} = \underline{\underline{5,86 \text{ V}}}$$