

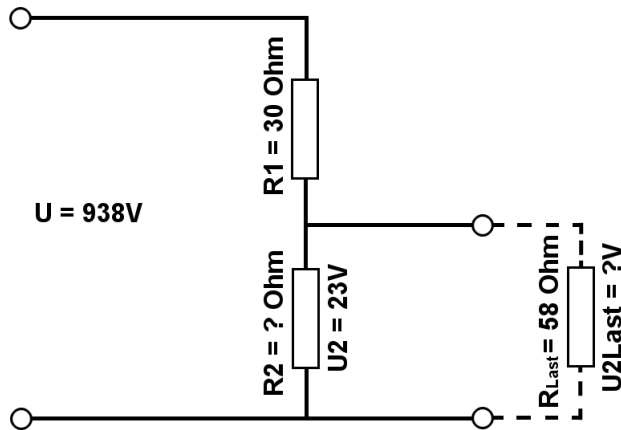


Berechne mit der Spannungsteilerregel die fehlenden Werte, im belasteten Spannungsteiler.

Name:	Klasse:	Datum:
-------	---------	--------

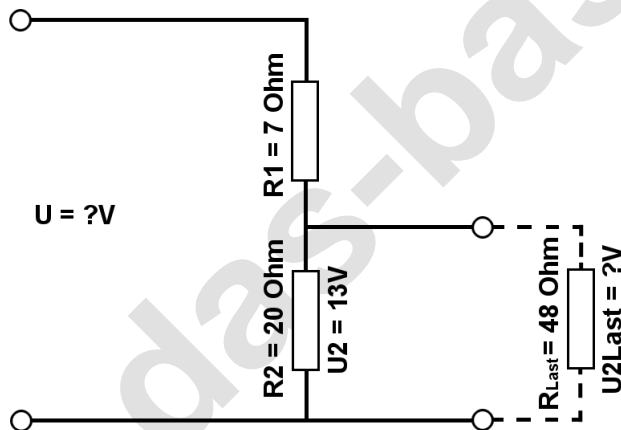
Aufgabe 1.)

Am Spannungsteiler liegt eine Spannung (U) von 938 Volt an. Der Widerstand R_1 hat einen Wert von 30 Ohm. Am Ausgang des Spannungsteilers wird eine Spannung von 23 Volt gemessen. Berechne den Widerstand von R_2 und die Spannung $U_{2\text{Last}}$ wenn ein Lastwiderstand von 58 Ohm angeschlossen wird?



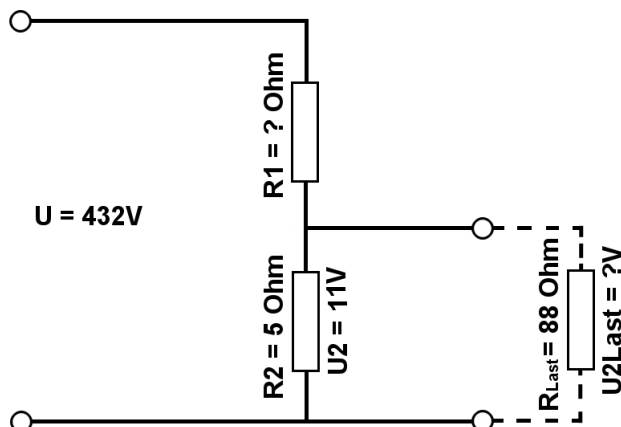
Aufgabe 2.)

Am Ausgang des Spannungsteilers liegt eine Spannung von 13 Volt an. R_2 hat einen Wert von 20 Ohm und R_1 von 7 Ohm. Berechne die Eingangsspannung U des Spannungsteilers und die Spannung $U_{2\text{Last}}$ wenn ein Lastwiderstand von 48 Ohm angeschlossen wird?



Aufgabe 3.)

Am Spannungsteiler lagte eine Spannung (U) von 432 Volt an. Der Widerstand R_2 hat einen Wert von 5 Ohm. Am Ausgang des Spannungsteilers wird eine Spannung von 11 Volt gemessen. Berechne den Widerstand von R_1 und die Spannung $U_{2\text{Last}}$ wenn ein Lastwiderstand von 88 Ohm angeschlossen wird?





Berechne mit der Spannungsteilerregel die fehlenden Werte, im belasteten Spannungsteiler.

Name:	Klasse:	Datum:
-------	---------	--------

Lösungen

Aufgabe 1.)

Geg.: $R_1 = 30 \text{ Ohm}$, $U_2 = 23 \text{ Volt}$, $U = 938 \text{ Volt}$, $R_{\text{Last}} = 58 \text{ Ohm}$

Ges.: R_2 , U_{Last}

$$\frac{R_1}{R_2} = \frac{U_1}{U_2} \quad R_2 = \frac{R_1 * U_2}{U_1} \quad R_2 = \frac{R_1 * U_2}{U - U_2}$$

$$R_2 = (R_1 * U_2) / (U - U_2) \quad R_2 = (30 \text{ Ohm} * 23 \text{ V}) / (938 \text{ V} - 23 \text{ V})$$

$$R_2 = \underline{\underline{0.75 \text{ Ohm}}}$$

$$\frac{R_1}{R_{2||\text{Last}}} = \frac{U_1}{U_{\text{Last}}} \quad U_{\text{Last}} = \frac{R_{2||\text{Last}} * U_1}{R_1} \quad U_{\text{Last}} = \left(\frac{1}{\frac{1}{R_2} + \frac{1}{R_{\text{Last}}}} \right) * U_1$$

$$U_{\text{Last}} = (1 / (1/R_2 + 1/R_{\text{Last}})) / R_1 * (U - U_2) \quad U_{\text{Last}} = (1 / (1/0.75 \text{ Ohm} + 1/58 \text{ Ohm})) / 30 \text{ Ohm} * 915 \text{ V}$$

$$U_{\text{Last}} = \underline{\underline{22.7 \text{ V}}}$$

Aufgabe 2.)

Geg.: $R_1 = 7 \text{ Ohm}$, $R_2 = 20 \text{ Ohm}$, $U_2 = 13 \text{ Volt}$, $R_{\text{Last}} = 48 \text{ Ohm}$

Ges.: U , U_{Last}

$$\frac{U}{U_2} = \frac{R_{\text{Ges}}}{R_2} = \frac{(R_1 + R_2)}{R_2} \quad U = \frac{U_2 * (R_1 + R_2)}{R_2}$$

$$U = U_2 * (R_1 + R_2) / R_2 \quad U = 13 \text{ V} * (7 \text{ Ohm} + 20 \text{ Ohm}) / 20 \text{ Ohm}$$

$$U = \underline{\underline{17.55 \text{ V}}}$$

$$\frac{R_1}{R_{2||\text{Last}}} = \frac{U_1}{U_{\text{Last}}} \quad U_{\text{Last}} = \frac{R_{2||\text{Last}} * U_1}{R_1} \quad U_{\text{Last}} = \left(\frac{1}{\frac{1}{R_2} + \frac{1}{R_{\text{Last}}}} \right) * U_1$$

$$U_{\text{Last}} = (1 / (1/R_2 + 1/R_{\text{Last}})) / R_1 * (U - U_2) \quad U_{\text{Last}} = (1 / (1/20 \text{ Ohm} + 1/48 \text{ Ohm})) / 7 \text{ Ohm} * 4.55 \text{ V}$$

$$U_{\text{Last}} = \underline{\underline{9.18 \text{ V}}}$$



Berechne mit der Spannungsteilerregel die fehlenden Werte, im belasteten Spannungsteiler.

Name:

Klasse:

Datum:

Aufgabe 3.)

Geg.: $R_2 = 5 \text{ Ohm}$, $U_2 = 11 \text{ Volt}$, $U = 432 \text{ Volt}$, $R_{\text{Last}} = 88 \text{ Ohm}$

Ges.: R_1 , U_{Last}

$$\frac{R_1}{R_2} = \frac{U_1}{U_2} \quad R_1 = \frac{R_2 * U_1}{U_2} \quad R_1 = \frac{R_2 * (U - U_2)}{U_2}$$

$$R_1 = R_2 * (U - U_2) / U_2 \quad R_1 = 5 \text{ Ohm} * (432 \text{ V} - 11 \text{ V}) / 11 \text{ V}$$

$$R_1 = \underline{\underline{191.36 \text{ Ohm}}}$$

$$\frac{R_1}{R_2 || R_{\text{Last}}} = \frac{U_1}{U_{\text{Last}}} \quad U_{\text{Last}} = \frac{R_2 || R_{\text{Last}} * U_1}{R_1} \quad U_{\text{Last}} = \left(\frac{1}{\frac{1}{R_2} + \frac{1}{R_{\text{Last}}}} \right) * \frac{U_1}{R_1}$$

$$U_{\text{Last}} = (1 / (1/R_2 + 1/R_{\text{Last}})) / R_1 * (U - U_2) \quad U_{\text{Last}} = (1 / (1/5 \text{ Ohm} + 1/88 \text{ Ohm})) / 191.36 \text{ Ohm} * 421 \text{ V}$$

$$U_{\text{Last}} = \underline{\underline{10.41 \text{ V}}}$$