

Im Zahlenbereich bis max. 1000.

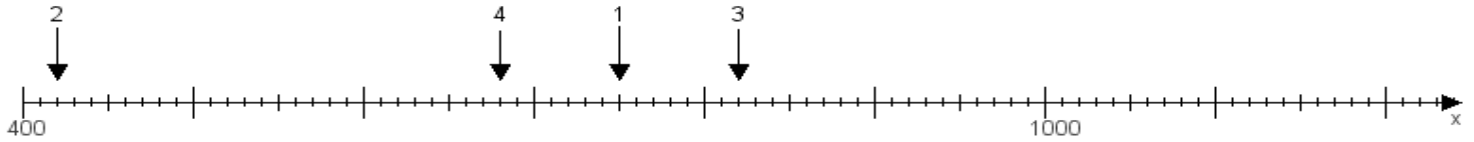
Name:

Klasse:

Datum:

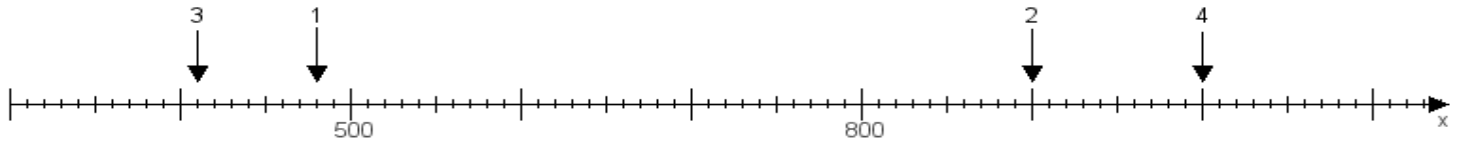
Aufgabe 1:

Ermittle die Werte von den Punkten 1 bis 4.



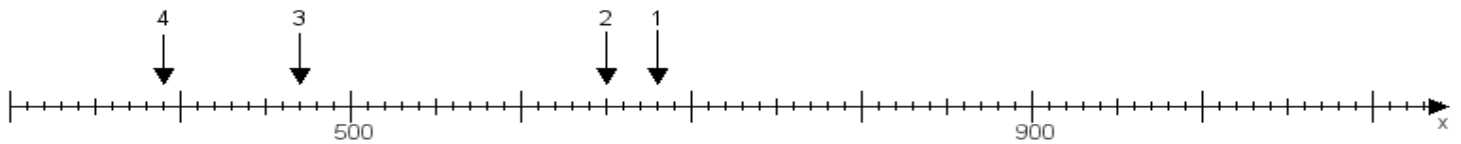
Aufgabe 2:

Ermittle die Werte von den Punkten 1 bis 4.



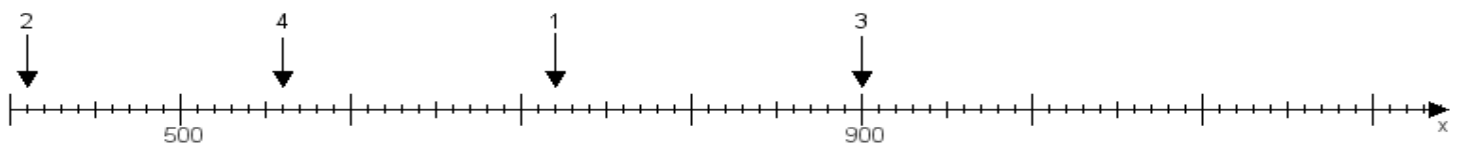
Aufgabe 3:

Ermittle die Werte von den Punkten 1 bis 4.



Aufgabe 4:

Ermittle die Werte von den Punkten 1 bis 4.



www.das-bastelteam.de -> Zahlenstrahl mit 4 Punkten. Blatt Nr.:435
Lösungen:

Aufgabe 1: Punkt 1 = 750, Punkt 2 = 420, Punkt 3 = 820, Punkt 4 = 680,

Aufgabe 2: Punkt 1 = 480, Punkt 2 = 900, Punkt 3 = 410, Punkt 4 = 1000,

Aufgabe 3: Punkt 1 = 680, Punkt 2 = 650, Punkt 3 = 470, Punkt 4 = 390,

Aufgabe 4: Punkt 1 = 720, Punkt 2 = 410, Punkt 3 = 900, Punkt 4 = 560,