

Im Zahlenbereich bis max. 1000.

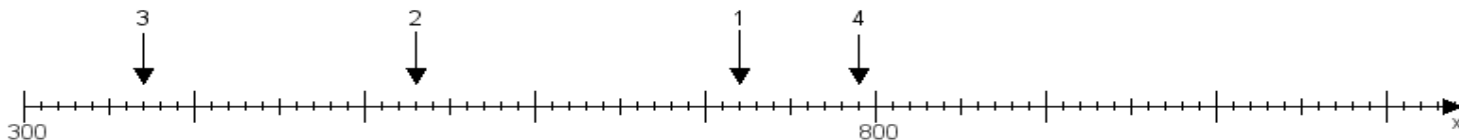
Name:

Klasse:

Datum:

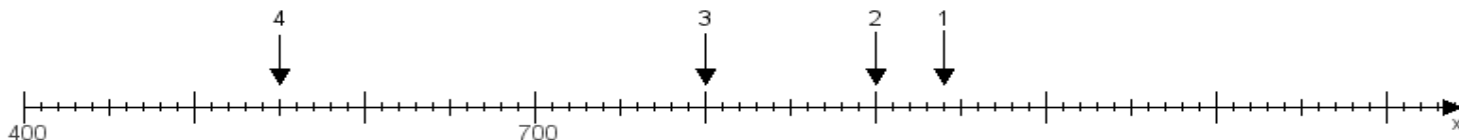
Aufgabe 1:

Ermittle die Werte von den Punkten 1 bis 4.



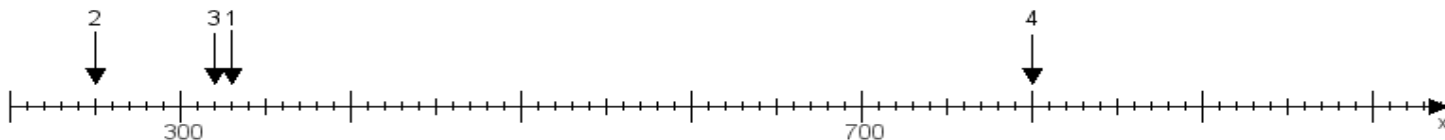
Aufgabe 2:

Ermittle die Werte von den Punkten 1 bis 4.



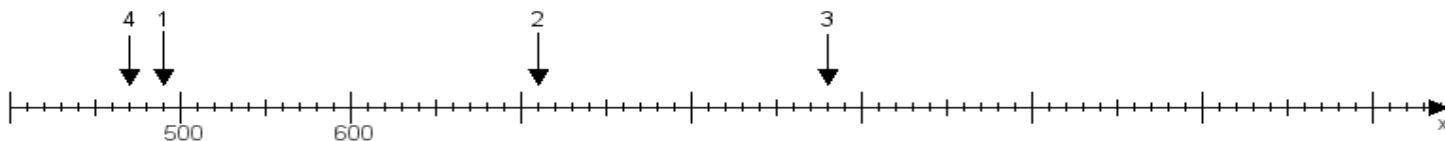
Aufgabe 3:

Ermittle die Werte von den Punkten 1 bis 4.



Aufgabe 4:

Ermittle die Werte von den Punkten 1 bis 4.



www.das-bastelteam.de -> Zahlenstrahl mit 4 Punkten. Blatt Nr.:289
Lösungen:

Aufgabe 1: Punkt 1 = 720, Punkt 2 = 530, Punkt 3 = 370, Punkt 4 = 790,

Aufgabe 2: Punkt 1 = 940, Punkt 2 = 900, Punkt 3 = 800, Punkt 4 = 550,

Aufgabe 3: Punkt 1 = 330, Punkt 2 = 250, Punkt 3 = 320, Punkt 4 = 800,

Aufgabe 4: Punkt 1 = 490, Punkt 2 = 710, Punkt 3 = 880, Punkt 4 = 470,

www.bin-dann-weg.de -> Ferienwohnungen und Ferienhäuser.

www.kleinanzeigen-und-annoncen.de -> Kostenlose Kleinanzeigen deutschlandweit.