

Im Zahlenbereich bis max. 1000.

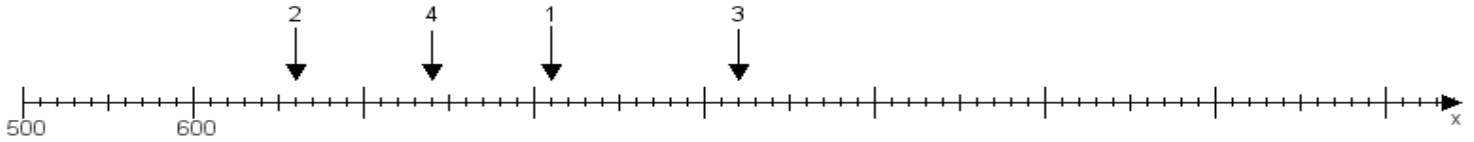
Name:

Klasse:

Datum:

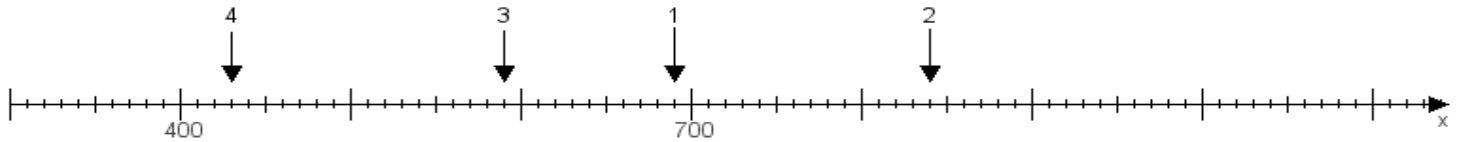
Aufgabe 1:

Ermittle die Werte von den Punkten 1 bis 4.



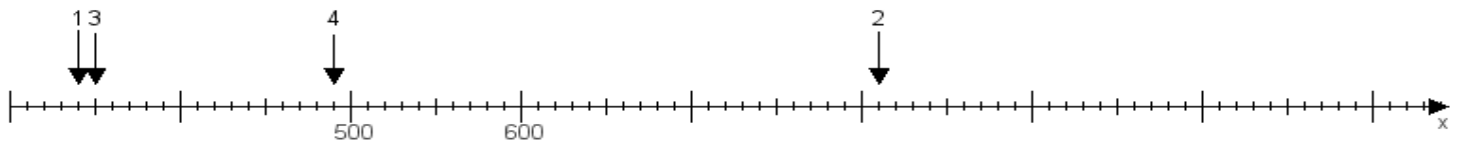
Aufgabe 2:

Ermittle die Werte von den Punkten 1 bis 4.



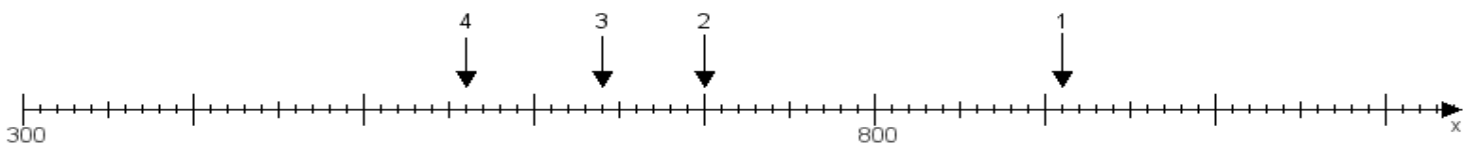
Aufgabe 3:

Ermittle die Werte von den Punkten 1 bis 4.



Aufgabe 4:

Ermittle die Werte von den Punkten 1 bis 4.



www.das-bastelteam.de -> Zahlenstrahl mit 4 Punkten. Blatt Nr.:258
Lösungen:

Aufgabe 1: Punkt 1 = 810, Punkt 2 = 660, Punkt 3 = 920, Punkt 4 = 740,

Aufgabe 2: Punkt 1 = 690, Punkt 2 = 840, Punkt 3 = 590, Punkt 4 = 430,

Aufgabe 3: Punkt 1 = 340, Punkt 2 = 810, Punkt 3 = 350, Punkt 4 = 490,

Aufgabe 4: Punkt 1 = 910, Punkt 2 = 700, Punkt 3 = 640, Punkt 4 = 560,