

Im Zahlenbereich bis max. 1000.

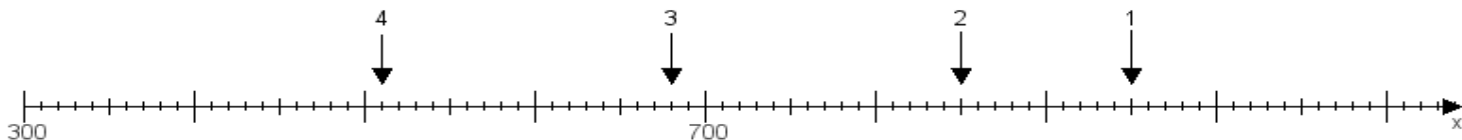
Name:

Klasse:

Datum:

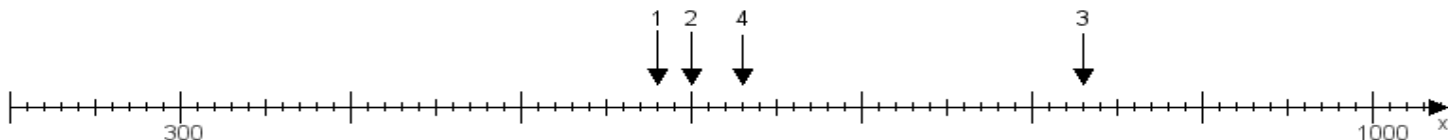
Aufgabe 1:

Ermittle die Werte von den Punkten 1 bis 4.



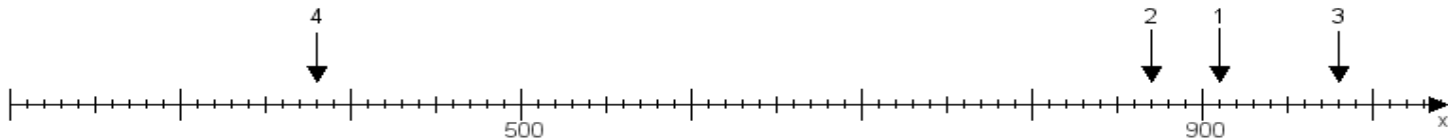
Aufgabe 2:

Ermittle die Werte von den Punkten 1 bis 4.



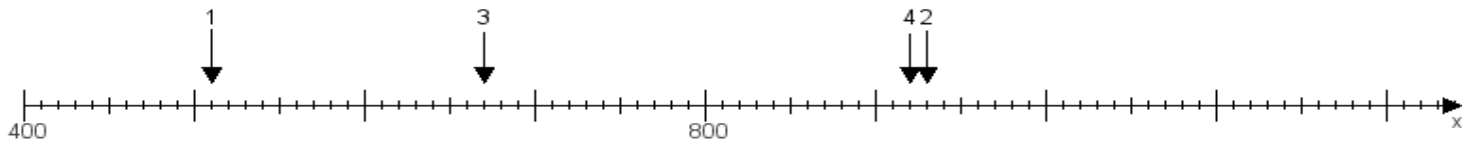
Aufgabe 3:

Ermittle die Werte von den Punkten 1 bis 4.



Aufgabe 4:

Ermittle die Werte von den Punkten 1 bis 4.



www.das-bastelteam.de -> Zahlenstrahl mit 4 Punkten. Blatt Nr.:183
Lösungen:

Aufgabe 1: Punkt 1 = 950, Punkt 2 = 850, Punkt 3 = 680, Punkt 4 = 510,

Aufgabe 2: Punkt 1 = 580, Punkt 2 = 600, Punkt 3 = 830, Punkt 4 = 630,

Aufgabe 3: Punkt 1 = 910, Punkt 2 = 870, Punkt 3 = 980, Punkt 4 = 380,

Aufgabe 4: Punkt 1 = 510, Punkt 2 = 930, Punkt 3 = 670, Punkt 4 = 920,