

Im Zahlenbereich bis max. 1000.

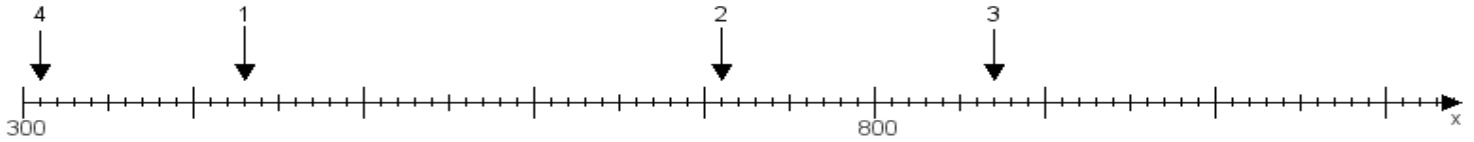
Name:

Klasse:

Datum:

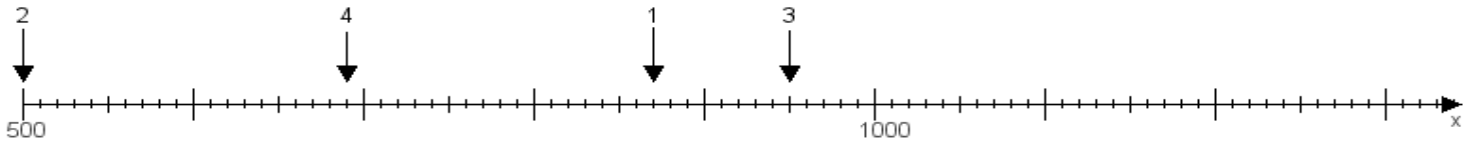
Aufgabe 1:

Ermittle die Werte von den Punkten 1 bis 4.



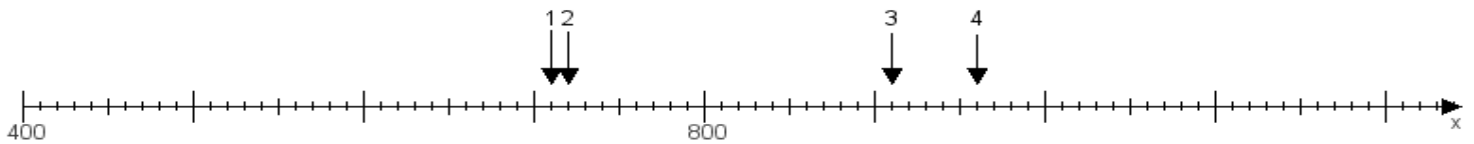
Aufgabe 2:

Ermittle die Werte von den Punkten 1 bis 4.



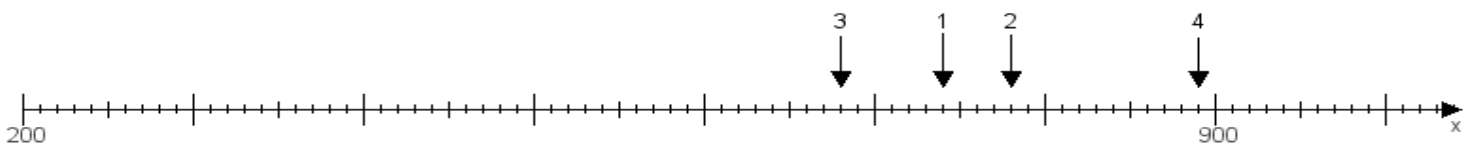
Aufgabe 3:

Ermittle die Werte von den Punkten 1 bis 4.



Aufgabe 4:

Ermittle die Werte von den Punkten 1 bis 4.



www.das-bastelteam.de -> Zahlenstrahl mit 4 Punkten. Blatt Nr.:146
Lösungen:

Aufgabe 1: Punkt 1 = 430, Punkt 2 = 710, Punkt 3 = 870, Punkt 4 = 310,

Aufgabe 2: Punkt 1 = 870, Punkt 2 = 500, Punkt 3 = 950, Punkt 4 = 690,

Aufgabe 3: Punkt 1 = 710, Punkt 2 = 720, Punkt 3 = 910, Punkt 4 = 960,

Aufgabe 4: Punkt 1 = 740, Punkt 2 = 780, Punkt 3 = 680, Punkt 4 = 890,