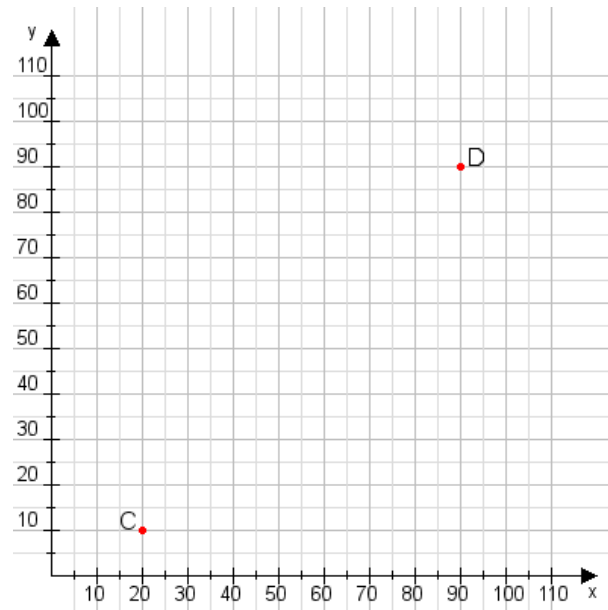


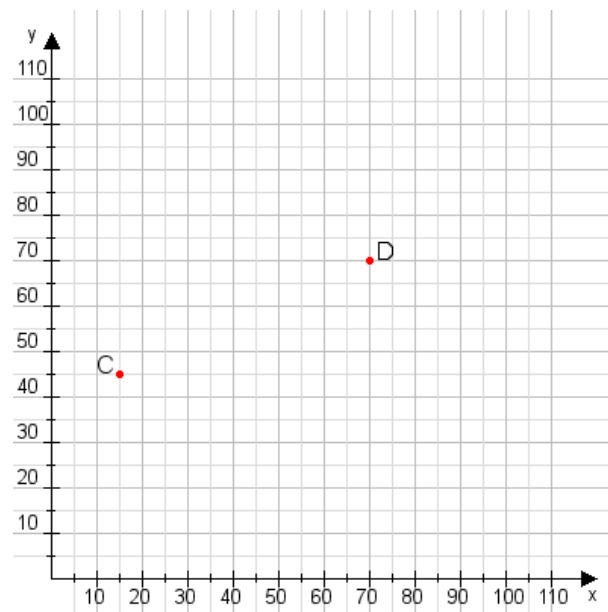
Aufgabe 1:

Zeichne den Punkt A(45|40) und den Punkt B(60|110) in das Koordinatensystem ein und verbinde beide Punkte miteinander. Verbinde die Eingetragenen Punkte C, D und ermittle deren Koordinaten.



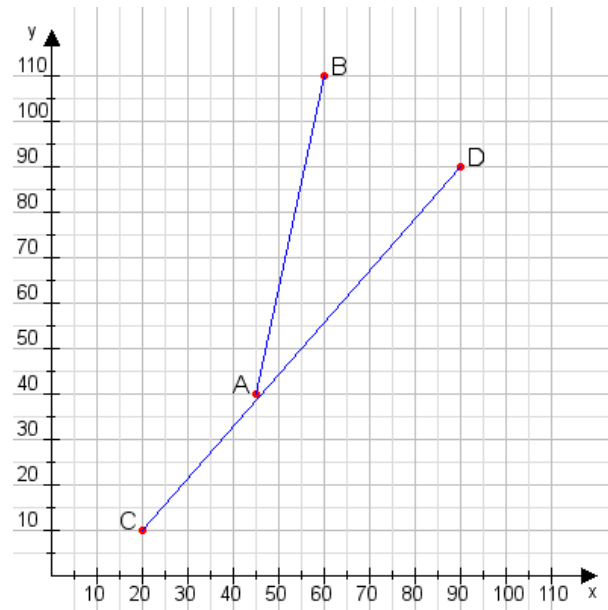
Aufgabe 2:

Zeichne den Punkt A(30|20) und den Punkt B(65|90) in das Koordinatensystem ein und verbinde beide Punkte miteinander. Verbinde die Eingetragenen Punkte C, D und ermittle deren Koordinaten.



Aufgabe 1:

C(20|10), D(90|90)



Aufgabe 2:

C(15|45), D(70|70)

