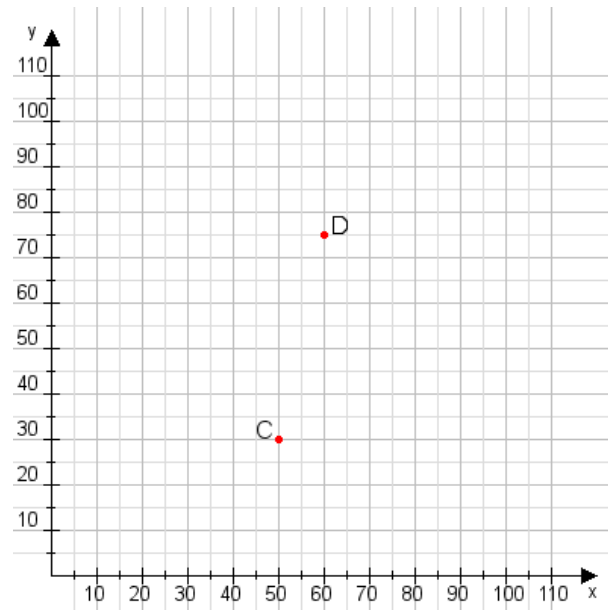


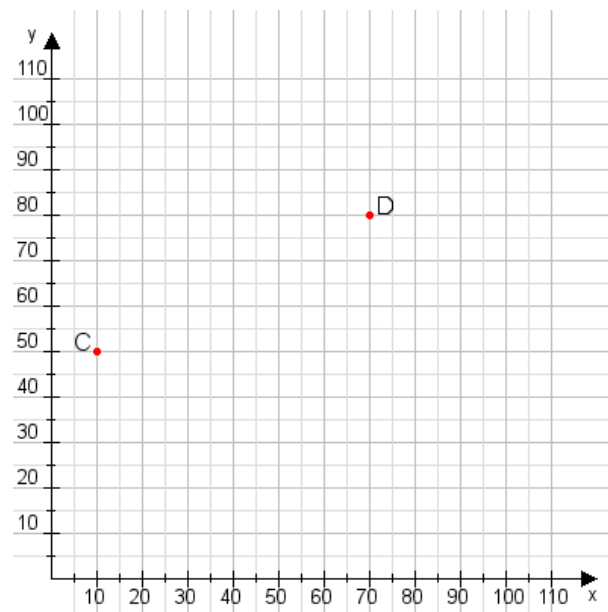
Aufgabe 1:

Zeichne den Punkt A(15|45) und den Punkt B(90|90) in das Koordinatensystem ein und verbinde beide Punkte miteinander. Verbinde die Eingetragenen Punkte C, D und ermittle deren Koordinaten.

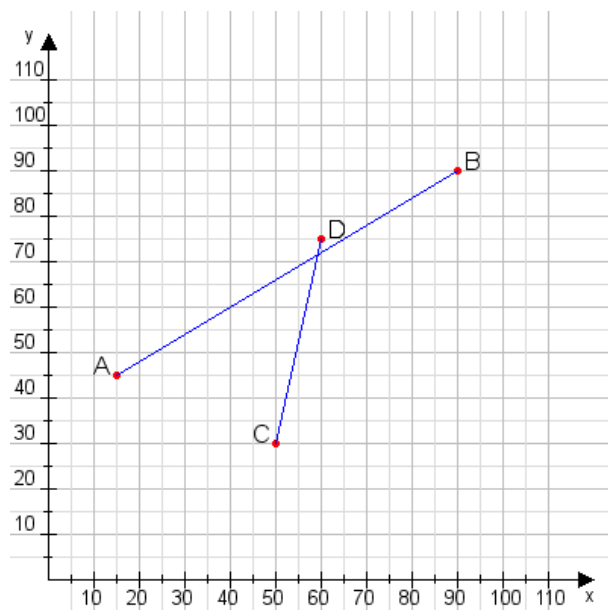


Aufgabe 2:

Zeichne den Punkt A(40|50) und den Punkt B(75|60) in das Koordinatensystem ein und verbinde beide Punkte miteinander. Verbinde die Eingetragenen Punkte C, D und ermittle deren Koordinaten.



Aufgabe 1:
C(50|30), D(60|75)



Aufgabe 2:
C(10|50), D(70|80)

