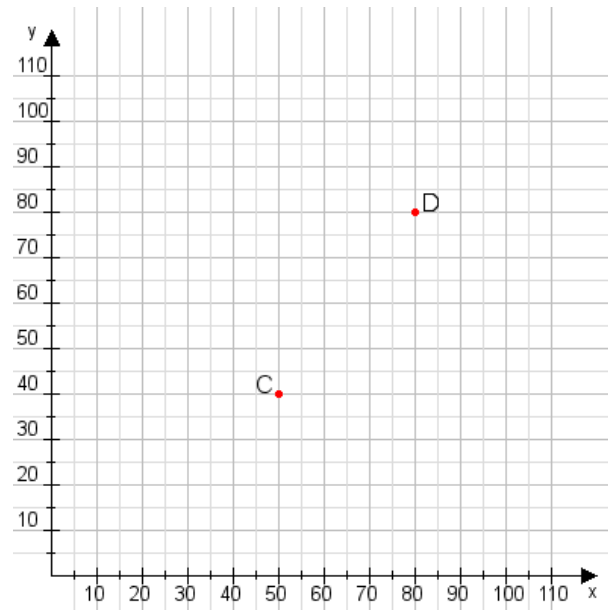


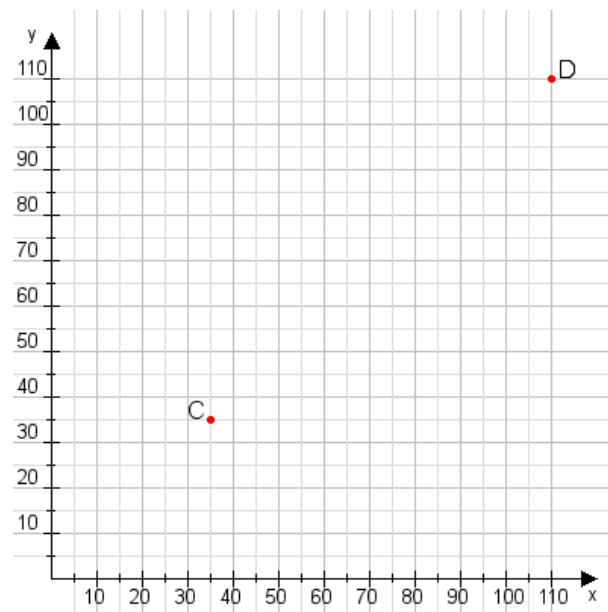
Aufgabe 1:

Zeichne den Punkt A(10|40) und den Punkt B(90|105) in das Koordinatensystem ein und verbinde beide Punkte miteinander. Verbinde die Eingetragenen Punkte C, D und ermittle deren Koordinaten.



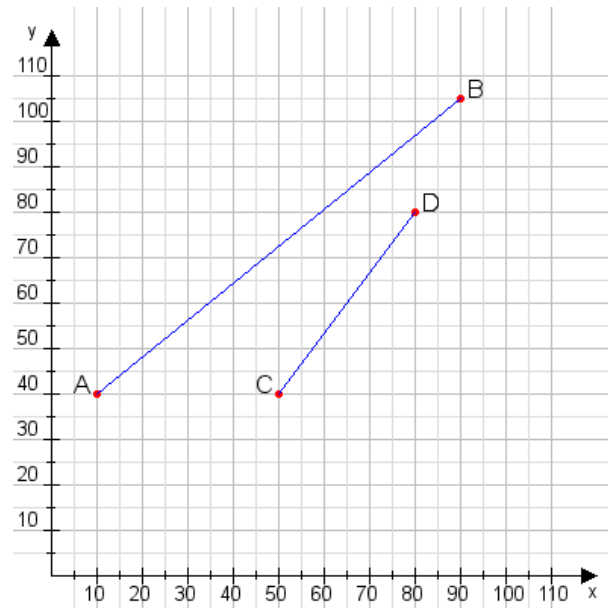
Aufgabe 2:

Zeichne den Punkt A(10|30) und den Punkt B(110|75) in das Koordinatensystem ein und verbinde beide Punkte miteinander. Verbinde die Eingetragenen Punkte C, D und ermittle deren Koordinaten.



Aufgabe 1:

C(50|40), D(80|80)



Aufgabe 2:

C(35|35), D(110|110)

